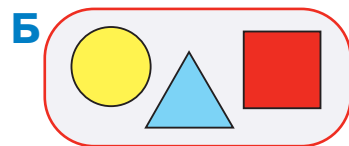




Проверь себя

204 Нарисуй в окне три разные цепочки, для каждой из которых мешок Б — это мешок её бусин.



205 Выдели часть мешка У — такой мешок Р из бусин мешка У, в котором есть 6 бусин и в котором все бусины одной формы. Нарисуй бусины в мешке Р.



206 Мешок G — это мешок греческих букв. Заполни таблицу для мешка G. Для этого сначала заполни рабочую таблицу на листе вырезания из рабочей тетради или тетради проектов.

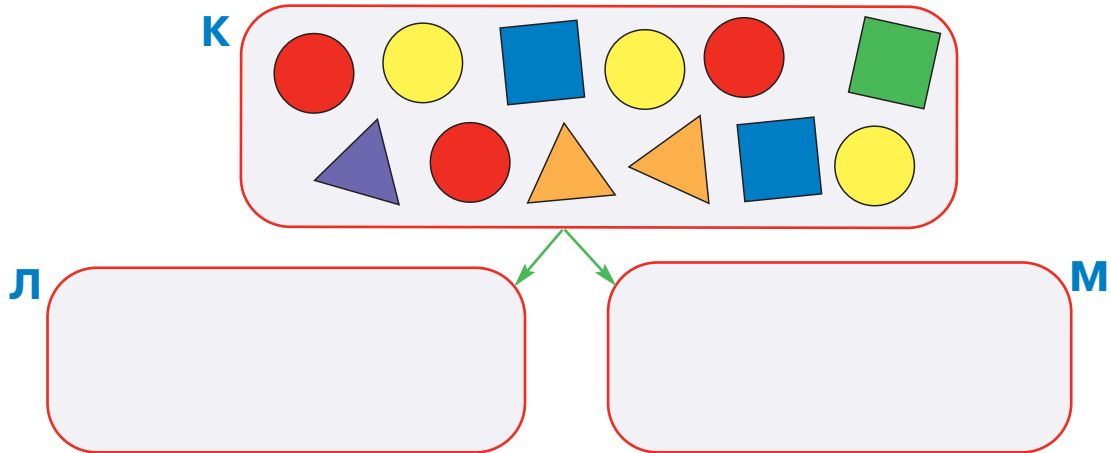
G	κ	ι	π	β	χ	ξ	ι
	ξ	ζ	ω	τ	ε	θ	γ
	φ	μ	θ	α	φ	τ	π
	τ	λ	γ	χ	ω	χ	λ
	ι	ω	σ	γ	ξ	π	τ
	ε	ζ	τ	ξ	σ	τ	χ

Таблица для мешка G

α	β	γ	δ	ε	ζ	η	θ	ι	κ	λ	μ	ν	ξ	ο	π	ρ	σ	τ	υ	φ	χ	ψ	ω

207

Построй такое разбиение мешка К на 2 части — мешки Л и М, при котором в мешке Л будет ровно 6 бусин и все бусины в нём будут разными. Нарисуй бусины в мешках Л и М.



208

Напиши в каждом окне одну букву так, чтобы получились слова из Учебного словарика.

Э □ □ □ □ □ □ □

Ч □ □ □ □ Р □

Г □ □ □

Ф □ □ □ Л □ □

209

Не заглядывая в Учебный словарик, определи истинность утверждений о словах из Учебного словарика, напиши буквы И, Л или Н в окнах.

Слово **ЯГОДА** идёт позже слова **ХВОСТ**. ○Слово **МЕЖДУ** идёт раньше слова **ЗАБОТА**. ○Слово **ЙОГ** идёт позже слова **ЧЕТВЕРГ**. ○Слово **ЗАПАД** идёт позже слова **ЖИЛИЩЕ**. ○

Теперь проверь своё решение по Учебному словарю.