


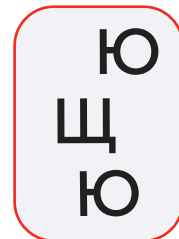
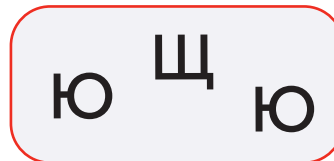
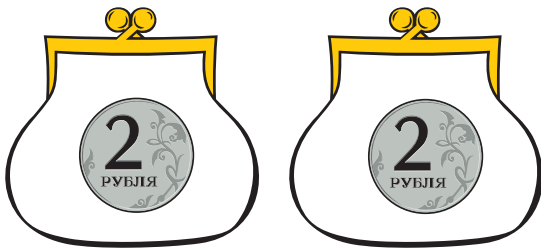
Одинаковые и разные мешки

Одинаковые мешки

Эти мешки одинаковые:



Вот пары одинаковых мешков:

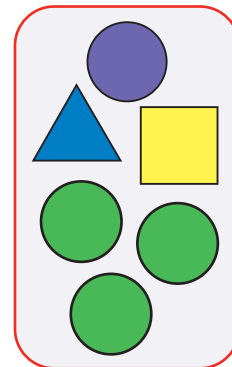
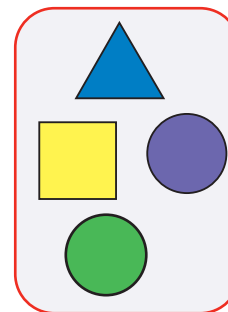
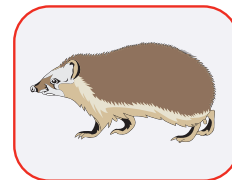
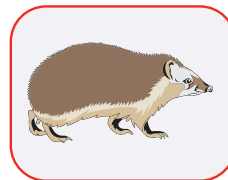
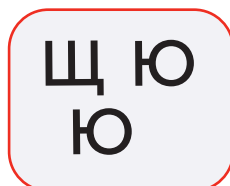


Все пустые мешки одинаковые.

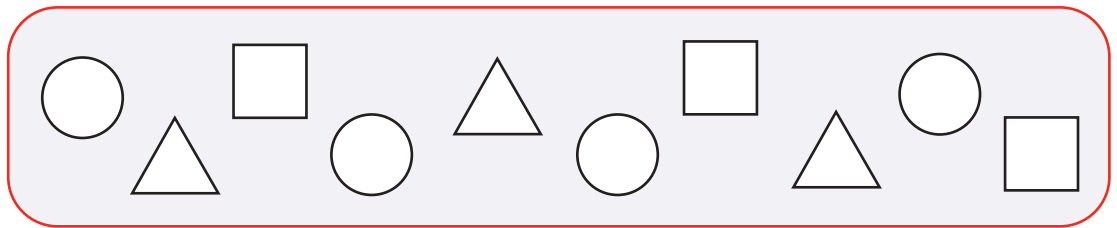


Разные мешки

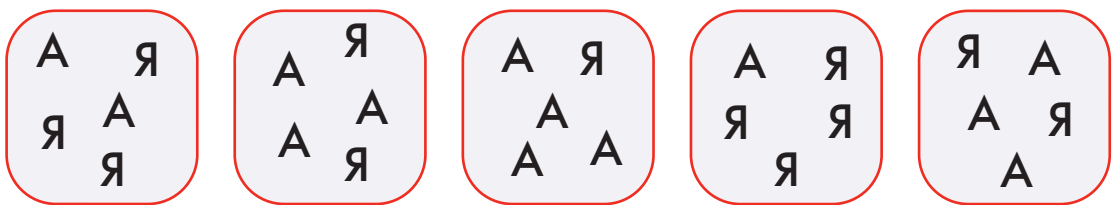
Вот пары разных мешков:



172 Раскрась бусины в мешке какими хочешь цветами, затем нарисуй в окне такой же мешок.



173 Обведи два одинаковых мешка синим.



174 Определи, какое время показывают каждые часы, заполни окна.



175 Напиши в окне все слова из Учебного словарика, для которых все три утверждения истинны:

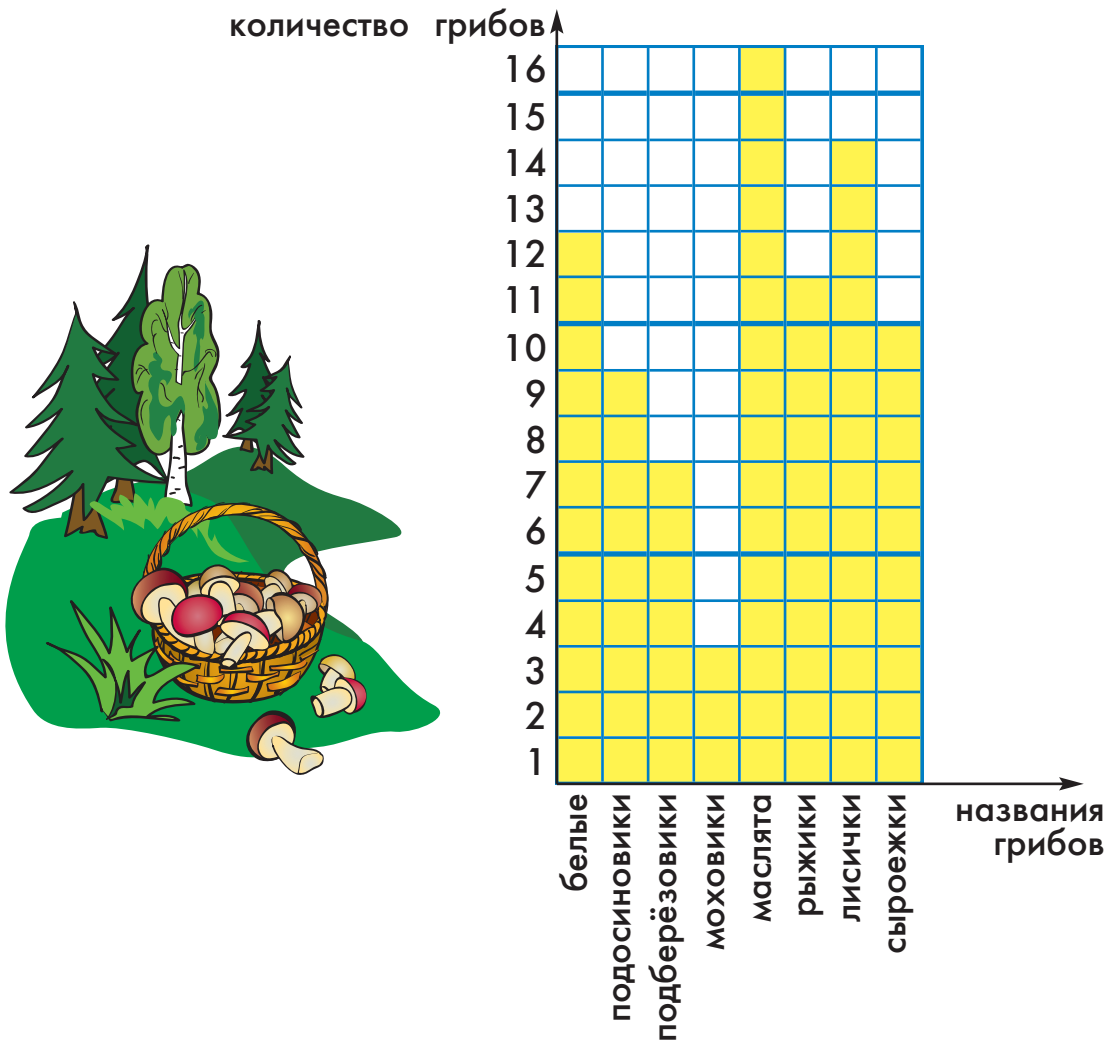
Это слово идёт в Учебном словарике раньше слова **СИНИЙ**.

Это слово идёт в Учебном словарике позже слова **ПЯТНАДЦАТЬ**.

В этом слове есть две одинаковые буквы.

176

Эта диаграмма показывает, сколько грибов каждого вида собрал вчера дед Иван. Пользуясь диаграммой, ответь на вопросы.



Сколько дед Иван собрал маслят?

Сколько дед Иван собрал подосиновиков?

Каких грибов дед Иван собрал больше всего? _____

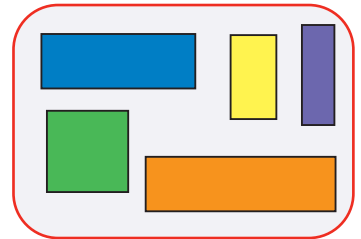
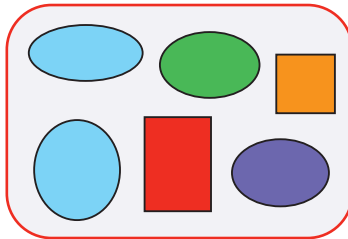
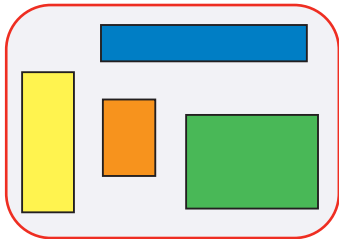
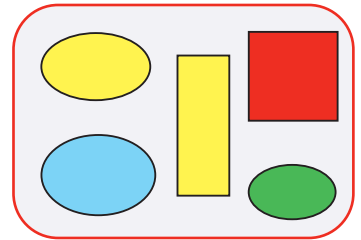
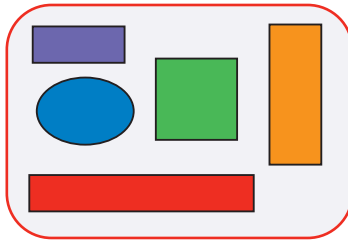
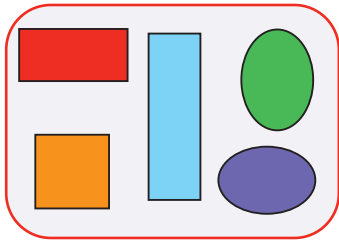
Каких грибов дед Иван собрал меньше всего? _____

Каких грибов дед Иван собрал больше 10 штук? (Перечисли все названия.) _____

Каких грибов дед Иван собрал меньше 10 штук? (Перечисли все названия.) _____

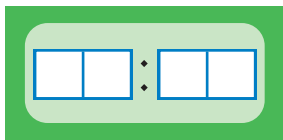
177

Пометь синей галочкой каждый мешок, в котором есть три прямоугольника. Пометь красной галочкой каждый мешок, в котором нет овала.

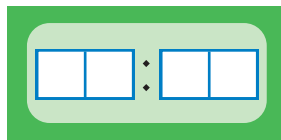


178

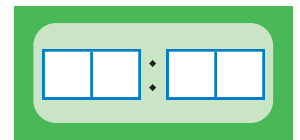
На каждом цифровых часах напиши время, которое указано под ними.



10 ч 32 мин



5 часов ровно



половина второго



179

Обведи в мешке все слова, которые есть в Учебном словаре.

ЦЕПОЧКИ СИНЯЯ ЦИФРАМИ СЕМЬ
 ЦИФРА СЕДЬМОЙ СЛОВО СРЕДЫ
 СРЕДА ЦВЕТ ТРЕТЬЯ
 ТРЕТИЙ ЦЕПОЧКА ЦВЕТЫ СИНИЙ ТРЕТЬИ
 СЛОВА ЦИФРЫ ТРИ СЕДЬМАЯ