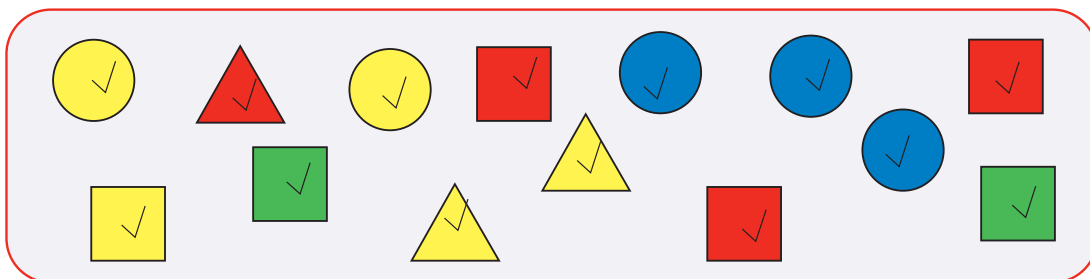


Таблица для мешка

Ц



Сосчитаем, сколько каких бусин в мешке Ц, заполним таблицу. Для этого будем отмечать галочкой каждую бусину в мешке и ставить крестик в свободную клетку под этой бусиной в рабочей таблице:

Рабочая таблица

	✗	✗	✗	✗	✗	✗		✗
	✗	✗	✗	✗	✗			
		✗		✗				

Теперь сосчитаем, сколько отмечено клеток под каждой бусиной, и заполним таблицу для мешка Ц:

Таблица для мешка Ц


0	2	3	2	3	2	1	0	1

164


На следующей странице дан мешок F. Заполни таблицу для мешка F. Для этого сначала заполни рабочую таблицу в рабочей тетради или на листе вырезаний тетради проектов. Обводи каждую фигурку в мешке и отмечай следующую свободную клетку под этой фигуркой в рабочей таблице.



F



165 Нарисуй круглые бусины в мешке по таблице.



КРАСНЫЕ	3
СИНИЕ	1
ЗЕЛЁНЫЕ	0
ЖЁЛТЫЕ	2
ЧЁРНЫЕ	3



166 Напиши в окне все слова из Учебного словарика, для которых все эти утверждения истинны:

В этом слове первая буква — буква **У**.

Вторая буква этого слова в алфавитной цепочке идёт раньше буквы **Р**.

Четвёртая буква этого слова в алфавитной цепочке идёт раньше буквы **К**.

167

Заполни таблицы 1 и 2 для мешка J. Считай бусины, не пользуясь рабочей таблицей.

J




Таблица 1 для мешка J



Таблица 2 для мешка J

ТРЕУГОЛЬНЫЕ	КРУГЛЫЕ	КВАДРАТНЫЕ

ОРАНЖЕВЫЕ	
ФИОЛЕТОВЫЕ	
ЗЕЛЁНЫЕ	
ЖЁЛТЫЕ	
ЧЁРНЫЕ	

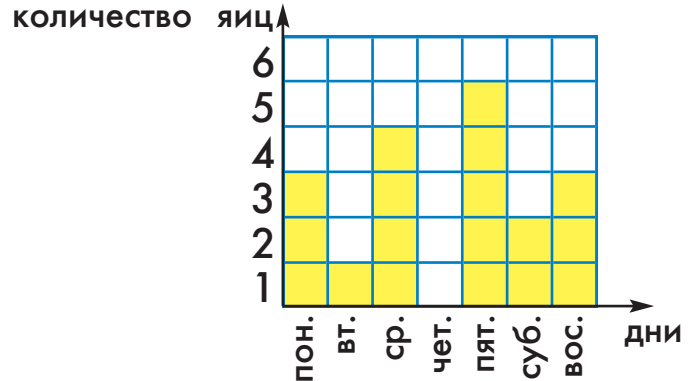
168

Сделай из правой фигурки такую же, как левая, — раскрась квадратики.



169

Вот диаграмма — таблица, которая показывает, сколько яиц снесли куры бабушки Марьи на прошлой неделе. В столбце с именем дня недели раскрашено жёлтым столько клеток, сколько яиц снесли куры в этот день. Пользуясь диаграммой, ответь на вопросы.



Сколько всего яиц снесли бабушкины куры за эту неделю?

В какой день было больше всего яиц?

В какой день было меньше всего яиц?

В какие дни куры снесли больше трёх яиц? (Перечисли все такие дни.) _____

Ая

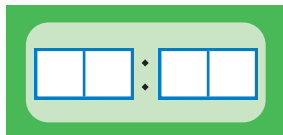
170

Напиши в каждом окне одну букву так, чтобы получилось слово из Учебного словарика, которое идёт раньше слова ЕДИНЫЙ и позже слова БОЛОТО.

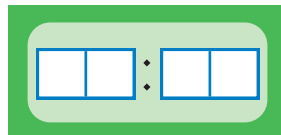
○

171

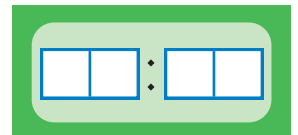
На каждом цифровых часах напиши время, которое указано под ними.



9 ч 57 мин



один час ровно



половина восьмого