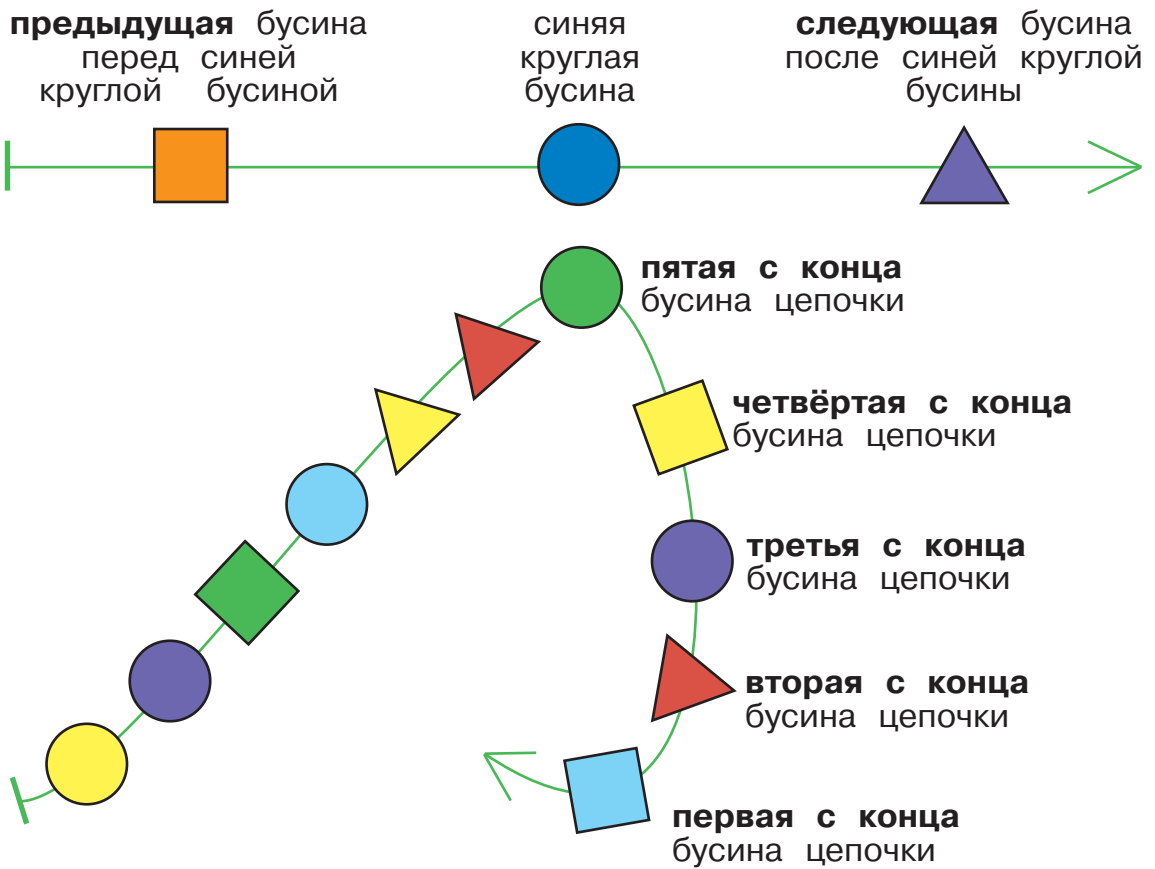


# Бусины в цепочке



100

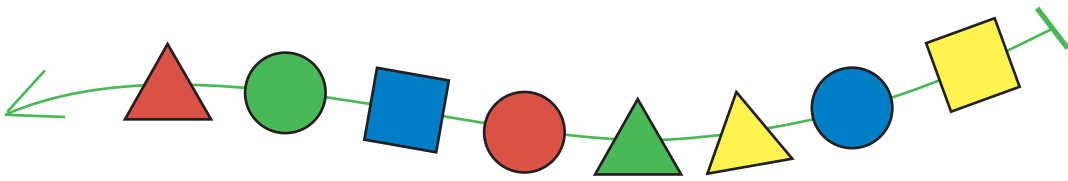
Напиши буквы в окнах по инструкции:

1. Первой буквой напиши букву **И**.
2. Третьей буквой напиши букву **Ф**.
3. Пятой с конца буквой напиши такую же букву, как последняя.
4. Предпоследней буквой напиши букву **К**.
5. Следующей буквой после **Ф** напиши букву **О**.
6. Третьей с конца буквой напиши такую же букву, как первая.
7. Предыдущей буквой перед **Ф** напиши букву **Н**.



101

Определи истинность утверждений, напиши буквы И, Л или Н в окнах.



В этой цепочке следующая бусина после синей квадратной — зелёная.

В этой цепочке предыдущая бусина перед красной круглой — квадратная.


В этой цепочке вторая бусина и третья с конца — разные.

В этой цепочке четвёртая с конца бусина — синяя квадратная.

В этой цепочке последняя и пятая с конца бусины — одинаковые.

102

Соедини все фигурки в две цепочки так, чтобы получились две одинаковые цепочки.



Задачу будет легче решить, если вырезать такие же фигурки из листа вырезания, сложить нужные цепочки на столе и после этого соединить фигурки в тетради.




103

Соедини все фигурки в одну цепочку так, чтобы эти три утверждения были истинными:

В этой цепочке первая и последняя фигурки одинаковые.

Предпоследняя фигурка в этой цепочке — жираф.

В этой цепочке пятая фигурка с конца — слон.




104

Вырежи из листа вырезания и наклеи в окно все цепочки, для которых это утверждение истинно:

В этой цепочке следующая бусина после синей треугольной — круглая.

105

Раскрась одну нераскрашенную бусину так, чтобы среди этих бусин были три одинаковые.




106

Соедини все фигурки в одну цепочку так, чтобы эти три утверждения были ложными:

В этой цепочке первая и последняя фигурки одинаковые.

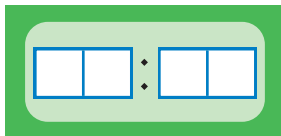
Предпоследняя фигурка в этой цепочке — жираф.

В этой цепочке пятая фигурка с конца — слон.

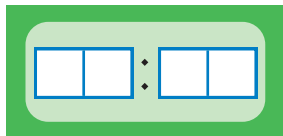


107

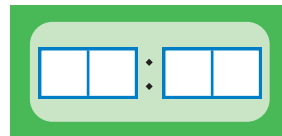
На каждом цифровых часах напиши время, которое указано под ними.



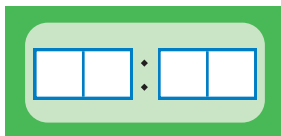
3 часа 10 минут



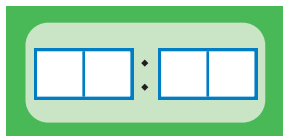
10 часов 31 минута



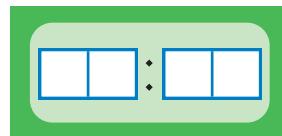
6 часов ровно



1 час ровно



5 часов 29 минут



10 часов ровно