



ИМЯ, ФАМИЛИЯ _____
 КЛАСС _____



Контрольная работа 2, вариант 2



1 Напиши в окне слово из Учебного словарика, для которого все следующие утверждения истинны:

Буква **А** в этом слове идёт позже буквы **Б**.

В этом слове предыдущая буква перед **А** — буква **Н**.

Первая буква в этом слове — **Б**.



2 Соедини синей линией каждое слово с мешком букв этого слова.

С-И-Р-О-Т-К-А →

Р О А М
 К О Ш

С-О-Р-И-Н-К-А →

К А О Н
 Р С И

Р-О-М-А-Ш-К-А →

А Р С
 К И Т О

Р-О-С-И-Н-К-А →

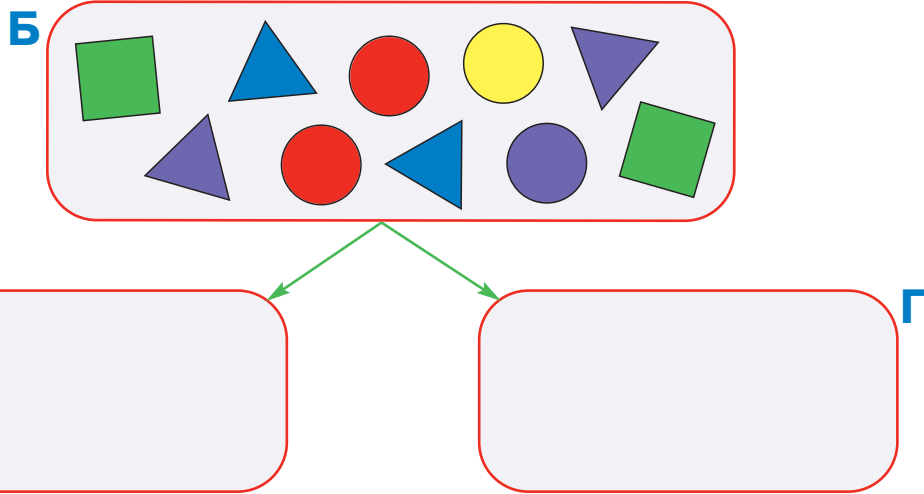
А О А Р
 К М Ш

М-О-Р-О-Ш-К-А →

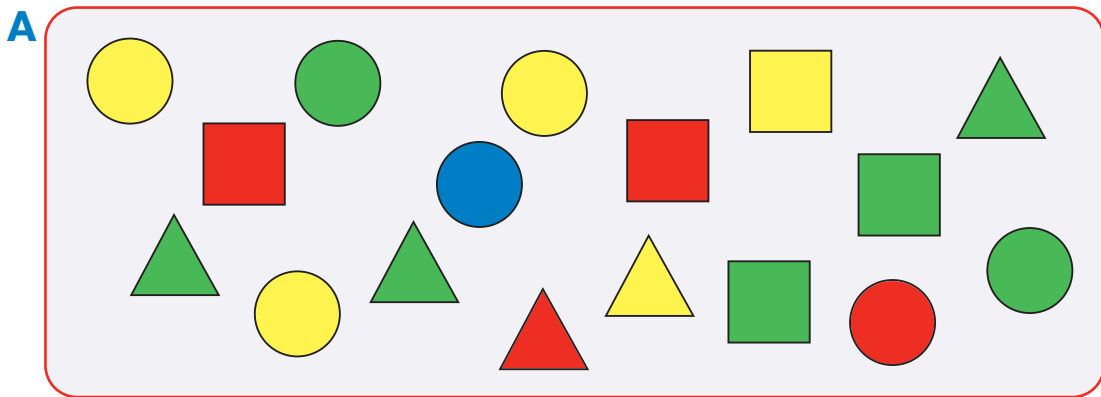
Обведи два слова с одинаковыми мешками букв.



3 Построй разбиение мешка Б на два мешка В и Г так, чтобы количество бусин в мешках В и Г было одинаковым и в каждом из этих мешков все бусины были разными.




4 Заполни таблицу для мешка А.



Цвет \ Форма	КВАДРАТНАЯ	ТРЕУГОЛЬНАЯ	КРУГЛАЯ
СИНИЙ			
КРАСНЫЙ			
ЗЕЛЁНЫЙ			
ЖЁЛТЫЙ			



5 Построй круговую цепочку времён года — напиши названия времён года в окнах так, чтобы они шли в цепочке в том же порядке, как они идут в природе. Пользуясь своей цепочкой, ответь на вопросы.



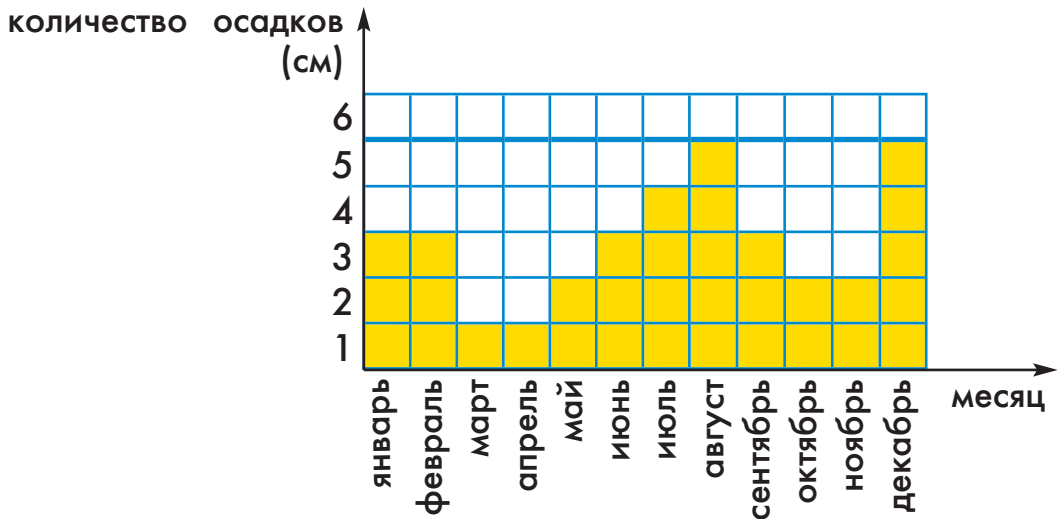
Какое время года предыдущее перед летом?

Какое время года третье после зимы?

Какое время года четвёртое перед осенью?



6 Эта диаграмма показывает, сколько сантиметров осадков выпало в каждом месяце года в городе Тикси. Пользуясь диаграммой, ответь на вопросы.



В какие месяцы было больше всего осадков? (Перечисли все месяцы.) _____

Когда было больше осадков — весной или осенью?

Когда было меньше осадков — зимой или летом?