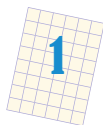


ИМЯ, ФАМИЛИЯ _____

КЛАСС _____



1 Напиши в окне слово из Учебного словарика, для которого все следующие утверждения истинны:

Буква **Е** в этом слове идёт позже буквы **У**.

В этом слове следующая буква после **Е** — буква **Н**.

Первая буква в этом слове — **У**.



2 Соедини синей линией каждое слово с мешком букв этого слова.

К-А-С-Т-О-Р-К-А ➔

К Р К Т А
А Ч О

С-О-Р-И-Н-К-А ➔

К Ш А О К
Р Т А

К-А-Р-Т-О-Ш-К-А ➔

К А О Н
Р С И

Р-О-С-И-Н-К-А ➔


К-А-Р-Т-О-Ч-К-А ➔

К Р А К
С О А Т



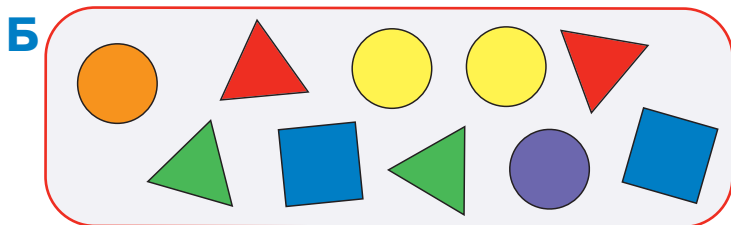
Обведи два слова с одинаковыми мешками букв.



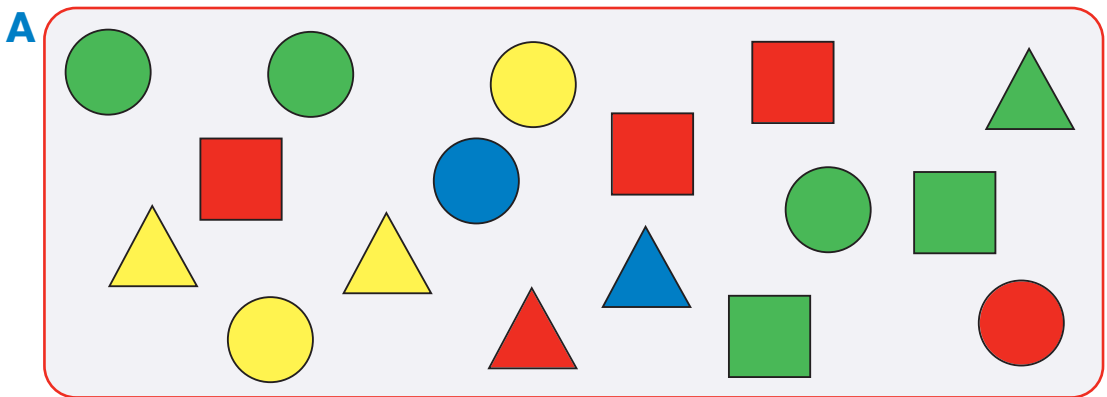
Контрольная работа 2, вариант 1



3 Построй разбиение мешка Б на два мешка В и Г так, чтобы количество бусин в мешках В и Г было одинаковым и в каждом из этих мешков все бусины были разными.




4 Заполни таблицу для мешка А.



Цвет \ Форма	КВАДРАТНАЯ	ТРЕУГОЛЬНАЯ	КРУГЛАЯ
СИНИЙ			
КРАСНЫЙ			
ЗЕЛЁНЫЙ			
ЖЁЛТЫЙ			



5 Построй круговую цепочку времён года — напиши названия времён года в окнах так, чтобы они шли в цепочке в том же порядке, как они идут в природе. Пользуясь своей цепочкой, ответь на вопросы.



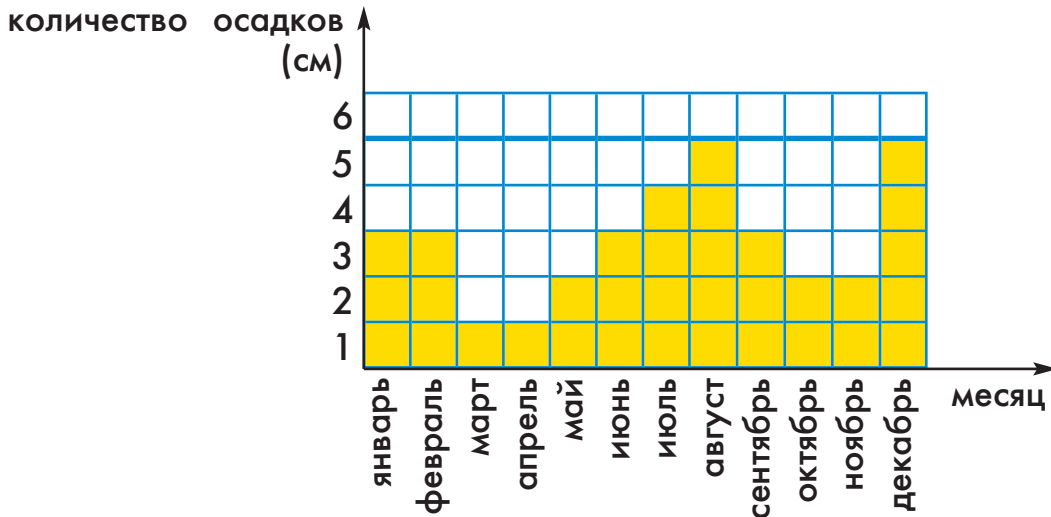
Какое время года предыдущее перед зимой?

Какое время года третье после лета?

Какое время года четвертое перед весной?



6 Эта диаграмма показывает, сколько сантиметров осадков выпало в каждом месяце года в городе Тикси. Пользуясь диаграммой, ответь на вопросы.



В какие месяцы было меньше всего осадков? (Перечисли все месяцы.) _____

Когда было меньше осадков — весной или осенью?

Когда было больше осадков — зимой или летом?