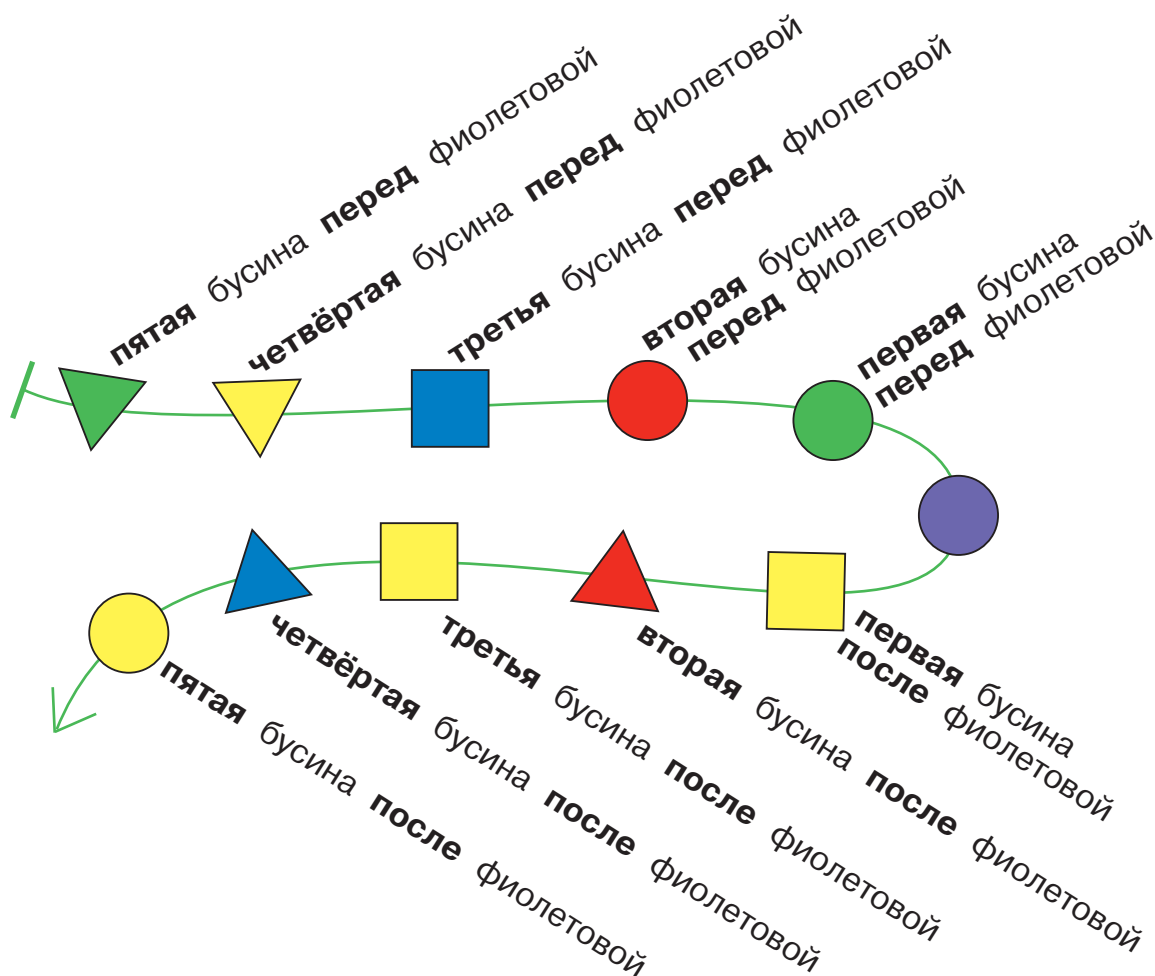


## Бусины в цепочке: после и перед

Бусины в цепочке можно отсчитывать не только от начала и конца, но и от любой бусины цепочки.



199

Напиши в каждом окне одну букву так, чтобы все эти утверждения были истинными (на этой и на следующей страницах):

В русском алфавите шестая буква после **М** — .

В латинском алфавите пятая буква перед **T** — .

В латинском алфавите вторая буква после **P** — .

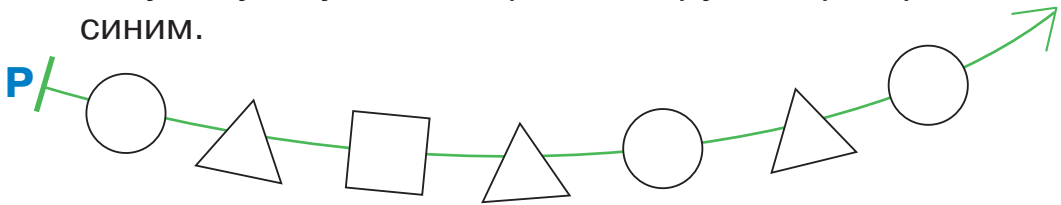
В русском алфавите третья буква перед **X** — .

В латинском алфавите первая буква перед **O** — .

200

Раскрась бусины в цепочке **P** по инструкции:

1. Квадратную бусину раскрась красным.
2. Четвёртую бусину после красной квадратной раскрась синим.
3. Пятую бусину перед синей круглой раскрась зелёным.
4. Третью бусину после зелёной треугольной раскрась жёлтым.
5. Четвёртую бусину перед жёлтой круглой раскрась красным.
6. Вторую бусину после зелёной треугольной раскрась жёлтым.
7. Пятую бусину после красной круглой раскрась синим.




201


Определи, какое время показывают каждые часы, заполни окна.



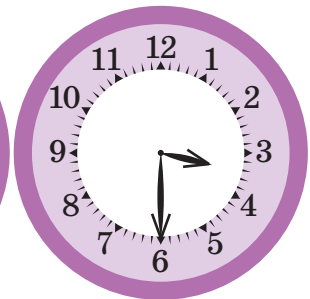
половина  
восьмого



половина



половина



половина

<input type="text"/>	<input type="text"/>	<input type="text"/>
----------------------	----------------------	----------------------



202

Не заглядывая в Учебный словарь, определи истинность утверждений, напиши буквы И, Л или Н в окнах.

Слово **ШАРИК** идёт позже слова **ТОНКАЯ**.

Слово **ЦЕНТР** идёт позже слова **ШЕРСТЬ**.

Слово **ЗАДАЧА** идёт раньше слова **ЖИТЬ**.

Слово **ЦВЕТНОЙ** идёт позже слова **ЧЕТВЁРТЫЙ**.

Слово **ЮМОР** идёт раньше слова **ЯМА**.



Теперь проверь своё решение по Учебному словарю.



203

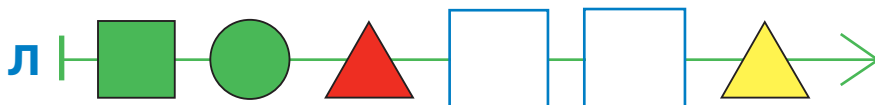
Обведи зелёным в мешке все слова, которых нет в Учебном словаре.



ХИРУРГ    ЮРКИЙ    ПРАВЫЙ    УЧИТЕЛЬ  
ЩИ    УТЮГ    ЛОЖЬ    ПРАВАЯ    ЗНАК  
ОКТАБРЬ    ЯЙЦО    УЧИТЕЛЯ  
ЛЕВАЯ    ЗУБР    РАВНЫЕ    ЦЕНА    РАВНЫЙ  
ЮРКАЯ    ЛОЖНЫЙ    ТЕТРАДЬ    ЛЕВЫЙ

204

Нарисуй в каждом окне в цепочке Л одну бусину так, чтобы в этой цепочке третья бусина после зелёной круглой была синей, а вторая бусина после красной треугольной была квадратной.



205

Соедини все фигурки в одну цепочку так, чтобы все следующие утверждения были истинными:

В этой цепочке петух — третья фигурка после попугая.

В этой цепочке орёл — предыдущая фигурка перед курицей.

В этой цепочке пятая фигурка перед сорокой — синица.



206

Напиши в окне слово из Учебного словарика, для которого выполнено:

В этом слове есть две одинаковые буквы. **И**

Первая буква в этом слове — буква **С**. **И**

Вторая буква в этом слове — буква **Е**. **Л**

В этом слове ровно пять букв. **Л**

207

Это буквы арабского алфавита. Обведи две одинаковые буквы красным.

سى ع ط م ص ل ر و د س ر ط ح ف ا ص ي  
ص ر ه ك ن ه ي ر ع ن ه ي ن و س م



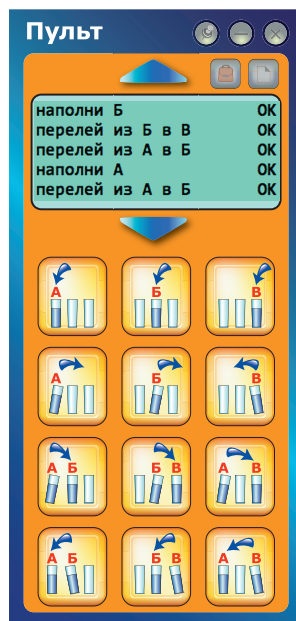
208

На компьютере на пульте управления Лисёнком-водолеем каждая кнопка — это команда. Оля работала с программой «Водолей» и выполнила задание: «Получить 4 (4 меры воды в любом из сосудов)». Вот таблица с цепочкой команд, которая получилась у Оли. Вместимость сосудов (в мерах) указана в таблице под их именами. Напиши в окнах справа от каждой команды, сколько мер воды будет в каждом сосуде после выполнения этой команды.

Кнопка-команда «Наполни В» — сосуд В наполняется водой из-под крана.

Кнопка-команда «Перелей из А в Б» — из сосуда А переливается в сосуд Б столько воды, сколько в него поместится. В сосуде А останется вода, которая не поместилась в сосуд Б.

Пульт Лисёнка-водолея



Кнопка-команда «Вылей всю воду из сосуда Б» (в раковину).

№	Команда	А (8)	Б (5)	В (3)
		0	0	0
1				
2				
3				
4				
5				
6				
7				
8				
9				