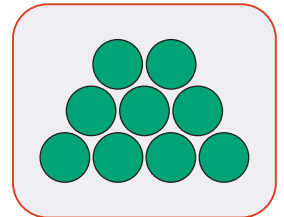
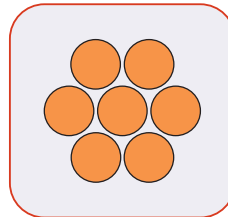
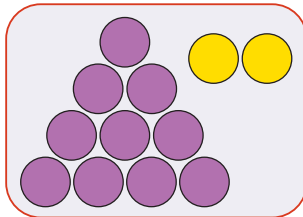
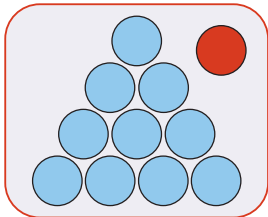




# Повторение

123

Соедини красной линией два таких мешка, при сложении которых получится мешок из 19 бусин. Соедини синей линией два таких мешка, при сложении которых получится мешок из 16 бусин.



124

Реши задачу. При решении учти, что слова «Вова старше» значат, что Вове больше лет. Для решения составь равенство, заполни окно в ответе.



Вове 13 лет, а его сестре Асе — 7 лет.  
На сколько лет Вова старше Аси?

125

Найди значение выражений, напиши равенства.



$16 - 6$

$3 + 15$

$15 - 6$

$9 + 8$

$7 + 6$

$10 + 5$

$12 - 7$

$7 + 8$

$13 - 8$

$14 - 8$

$17 - 10$

$7 + 7$

$15 - 14$

$3 + 13$

$16 - 15$

$8 + 9$

$13 - 9$

$14 + 2$

$10 - 8$

$10 - 10$

126

Напиши пятизначное число, в котором первая цифра — 1, третья цифра после цифры 7 — цифра 2 и в котором цифра 3 идёт раньше цифры 5.



127

Найди состав числа 10 — построй столько мешков с парами чисел, сколько нужно. Для каждого мешка напиши все возможные суммы.



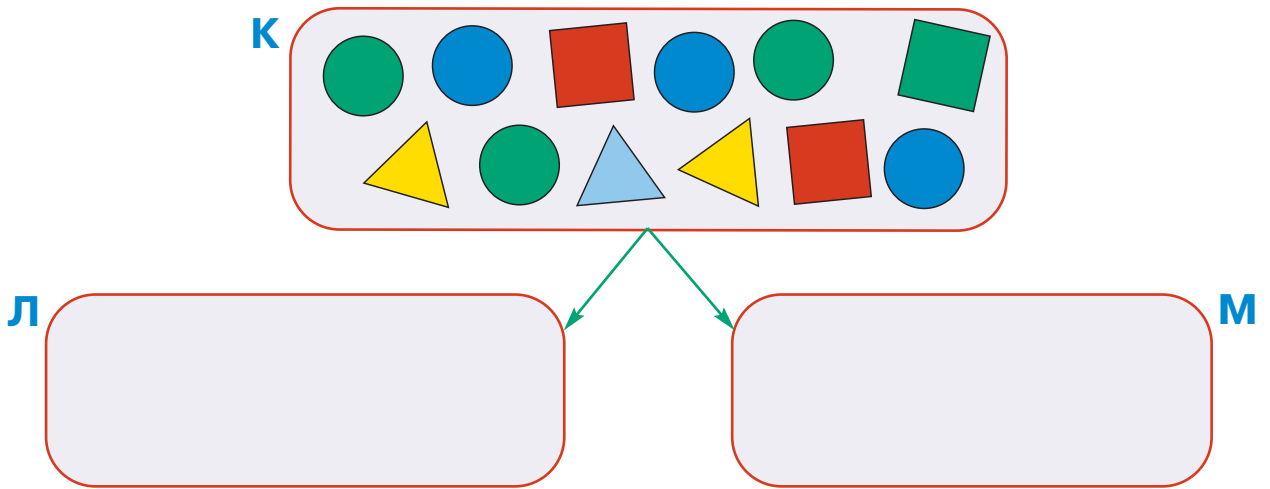
128

Собери кошелёк — часть кошелька Ш, в котором лежит ровно 11 руб. и ровно 4 монеты. Наклей монеты в кошелёк.



129

Построй такое разбиение мешка К на 2 части — мешки Л и М, при котором мешок Л будет из 6 бусин и все бусины в нём будут разными. Наклей или нарисуй бусины в мешках Л и М.



130

Обведи синим имя каждой цепочки, пятая бусина в которой — последняя. Обведи красным имя каждой цепочки, в которой круглая зелёная бусина идёт позже третьей бусины.

