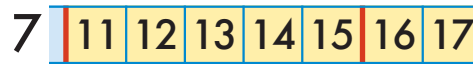




## Повторяем приёмы сложения: результат — число второго десятка

Прибавляем 10

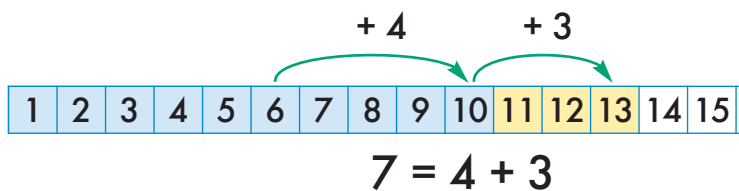
$$10 + 7 = 17$$



$$7 + 10 = 17$$

Дополняем до 10

К числу 6 прибавим число 7 дополнением до десятка. Для этого сначала находим дополнение числа 6 до 10: это 4. Дополняем 4 до 7: это 3. Поэтому к числу 6 добавляем сначала 4 (получается 10), а потом оставшуюся часть числа 7 — число 3.

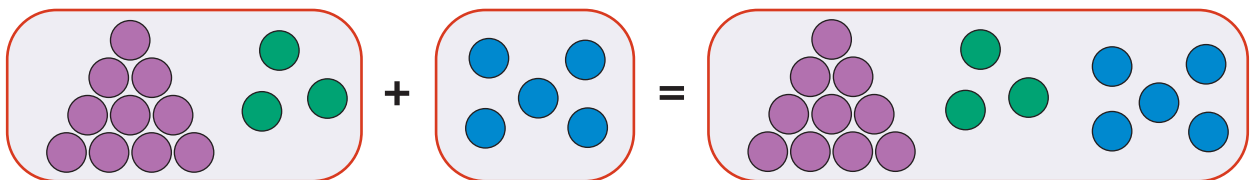


$$6 + 7 = 6 + 4 + 3$$

$$6 + 7 = 13$$

Прибавляем во втором десятке

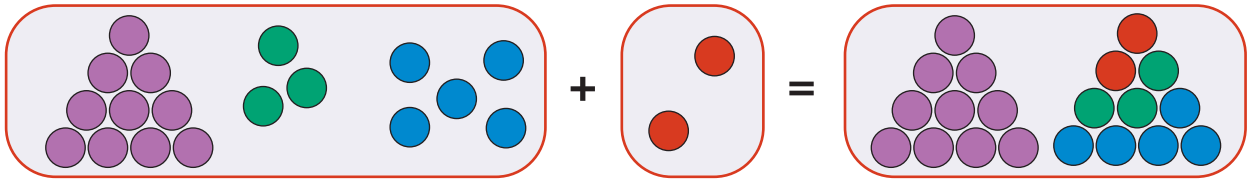
Сложим мешки с 13 и с 5 бусинами:



При сложении бусины из целого десятка так и остались собранными в десяток. К 3 бусинам добавили ещё 5, получилось 8 бусин.

$$13 + 5 = 18$$

Сложим мешки с 18 и с 2 бусинами:



При сложении целый десяток остался нетронутым. К 8 прибавили 2, получили 10 — образовался второй целый десяток, в мешке стало ровно 2 десятка.

$$18 + 2 = 20$$

63



Найди значение сумм, напиши равенства. Постарайся считать в уме. Используй дополнение до десяти. Не забудь проверить свои вычисления.

$5 + 6$

$8 + 7$

$8 + 5$

$6 + 8$

$7 + 4$

$8 + 6$

$9 + 4$

$3 + 9$

$4 + 7$

$9 + 7$

$4 + 9$

$9 + 3$

64

Реши задачу. Для решения составь равенство, заполни окно в ответе.



Шура купила в магазине 2 упаковки йогуртов. В каждой упаковке было по 6 баночек. Сколько всего баночек йогурта купила Шура?

65



Найди значение сумм, напиши равенства. Постарайся считать в уме. Не забудь проверить свои вычисления.

$15 + 4$

$17 + 2$

$12 + 5$

$10 + 8$

$6 + 14$

$16 + 3$

$9 + 10$

$13 + 6$

$10 + 4$

$11 + 6$

$9 + 11$

$3 + 17$

66



Сосчитай, сколько денег в этом кошельке. Для этого напиши сумму, проверь, что в твою сумму попали все монеты из кошелька и что нет лишних слагаемых. Вычисли и напиши значение суммы. Напиши решение и ответ по образцу:



3 шага вниз от предыдущей записи

12 шагов →  $N$  66

Здесь допиши равенство.

Здесь напиши найденное значение.

2 →  $2 + 5 + \dots$

2 → Ответ: в кошельке ровно ... рублей.

67



Построй мешок Г — сумму мешков Д и Е. Наклей или нарисуй бусины в мешке Г.

Д

Г

Е

68

Напиши букву в каждом окне так, чтобы получились слова — имена чисел.

□ □ ВЯТЬ

□ □ СЯТЬ

□ □ □ ЯТНАДЦАТЬ

69

Соедини синей линией два одинаковых мешка из 5 букв.

